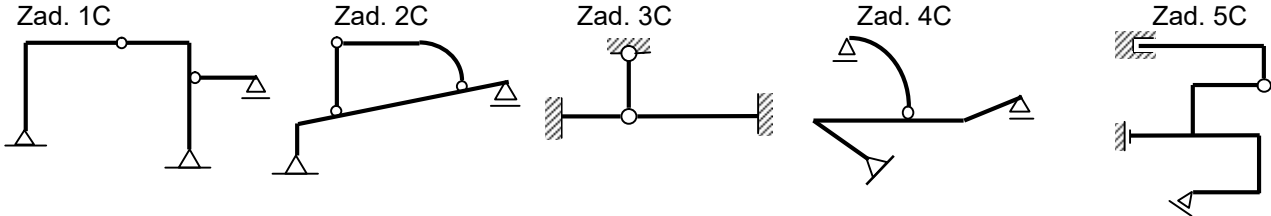


## MECHANIKA OGÓLNA - LISTA ZADAŃ 3

### C. ANALIZA STATYCZNA

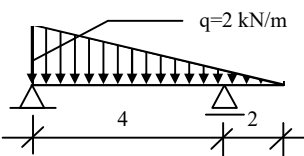
Polecenie dla wszystkich zadań: zbadaj statyczną wyznaczalność przedstawionych układów prętowych. Narysuj układy sił biernych działających na poszczególne tarcze.



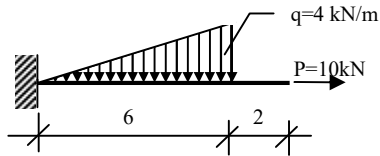
### D. OBLICZANIE REAKCJI. PROSTE BELKI I RAMY

Polecenie dla wszystkich zadań: oblicz reakcje podporowe w przedstawionych belkach, ramach. Wymiary na rysunkach podano w metrach.

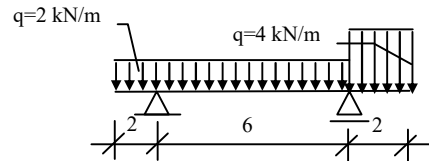
Zad. 1D



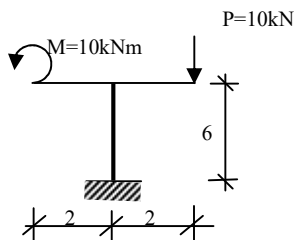
Zad. 2D



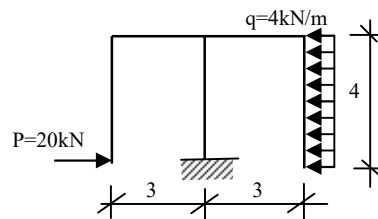
Zad. 3D



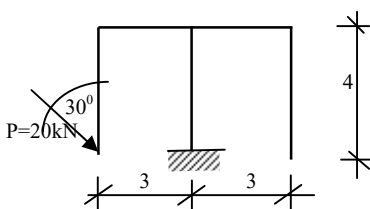
Zad. 4D



Zad. 5D



Zad. 6D



Zad. 7D

