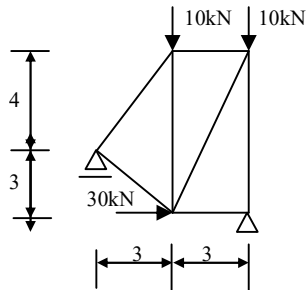


## MECHANIKA OGÓLNA - LISTA ZADAŃ 6

### F. KRATOWNICA

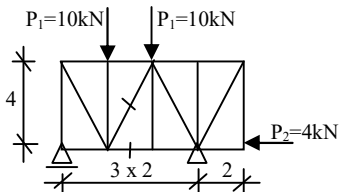
Zad.1F

Wyznacz metodą równoważenia węzłów siły w prętach kratownicy.

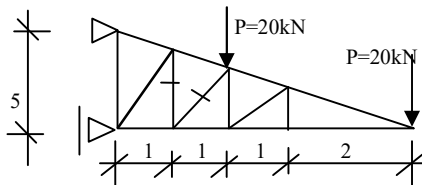


Polecenie dla zadań 2F, 3F, 4F, 5F : wyznacz siły w zaznaczonych prętach kratownic z poniższych zadań stosując metodę Rittera.

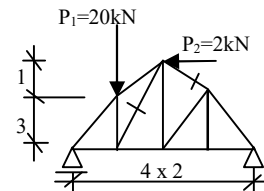
Zad. 2F



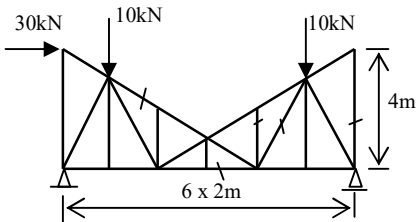
Zad. 3F



Zad. 4F

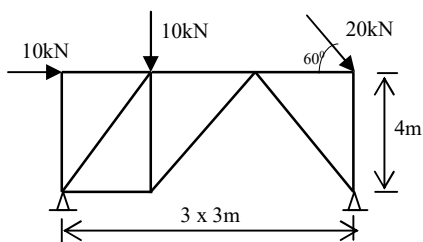


Zad.5F



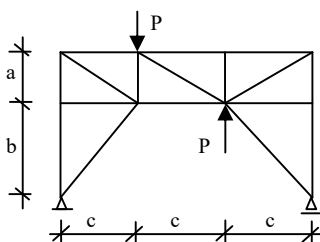
Zad.6F

Wyznacz siły w prętach kratownicy.



Polecenie dla zadań 7E, 8E : wskaż pręty zerowe w kratownicach ( uzasadnij słownie ).

Zad. 7F



Zad.8

